



MUNICÍPIO DA ESTÂNCIA BALNEÁRIA DE PRAIA GRANDE

Estado de São Paulo
SEDUC - Secretaria de Educação

SEMANA 37 PONTE DO SABER



4º ano do Ensino Fundamental

Vamos Recordar?

1- Observe o número abaixo e em seguida assinale a alternativa correspondente a casa decimal que o algarismo 7 (sete) ocupa.

- a) 70 unidades.
- b) 7 dezenas.
- c) 7 centenas.
- d) 7 unidades de milhar.




2- Quantos números diferentes, usando os algarismos 7, 2 e 9 podemos compor, sem repetir nenhum número?

- a) 3
- b) 4
- c) 5
- d) 6

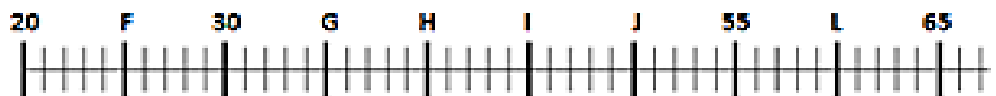
3- Algumas bolas foram distribuídas em caixas, conforme podemos observar na imagem abaixo. Assinale a alternativa correta referente ao total de bolas distribuídas.

- a) Mais que 40.
- b) Menos que 36.
- c) Exatamente 36.
- d) Exatamente 40.

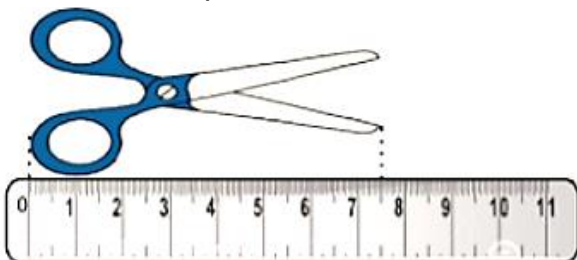


4- Observando a reta numérica a seguir, assinale a alternativa que indica o número representado pela letra I.

- a) 25
- b) 35
- c) 45
- d) 50



5- Qual o comprimento da tesoura abaixo?



- a) 6,0 centímetros
- b) 6,5 centímetros
- c) 7,0 centímetros
- d) 7,5 centímetros

6- Uma viagem com duração de 35 dias, corresponde a qual período? Assinale a alternativa correta.

- a) 3 semanas e 3 dias.
- b) 2 quinzenas e 5 dias.
- c) 4 semanas e 5 dias.
- d) 4 semanas e 3 dias.